

A feladat sorszáma:	29 - 33.	Standardszint:	4-6.
----------------------------	----------	-----------------------	------

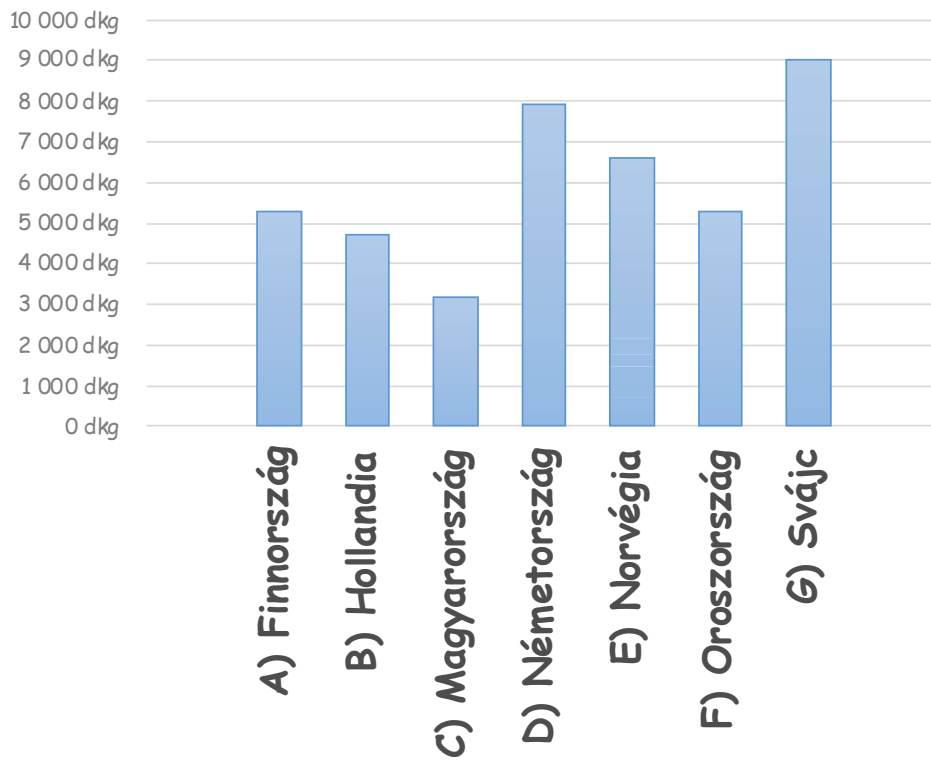
A standard(ok), amelye(ke)t a feladattal mérünk:		
Valószínűség, statisztika	Statisztikai adatok	Egy adathalmazból ki tudja választani a legkisebb és a legnagyobb adatot. Felismeri az egyenlő adatokat.

A standard(ok), amelye(ke)t a feladattal mérünk:		
Valószínűség, statisztika	Statisztikai adatok	Képes leolvasni az oszlopdiagram adatait. Képes segítséggel értelmezni az adatokat.

A standard(ok), amelye(ke)t a feladattal mérünk:		
Valószínűség, statisztika	Statisztikai adatok	Képes egyszerűbb következtetések levonására. Képes következtetések megfogalmazására a diagram adatai alapján.

Figyeld meg a diagram adatait!

Csokoládéfogyasztás 2014-ben (dkg/fő)



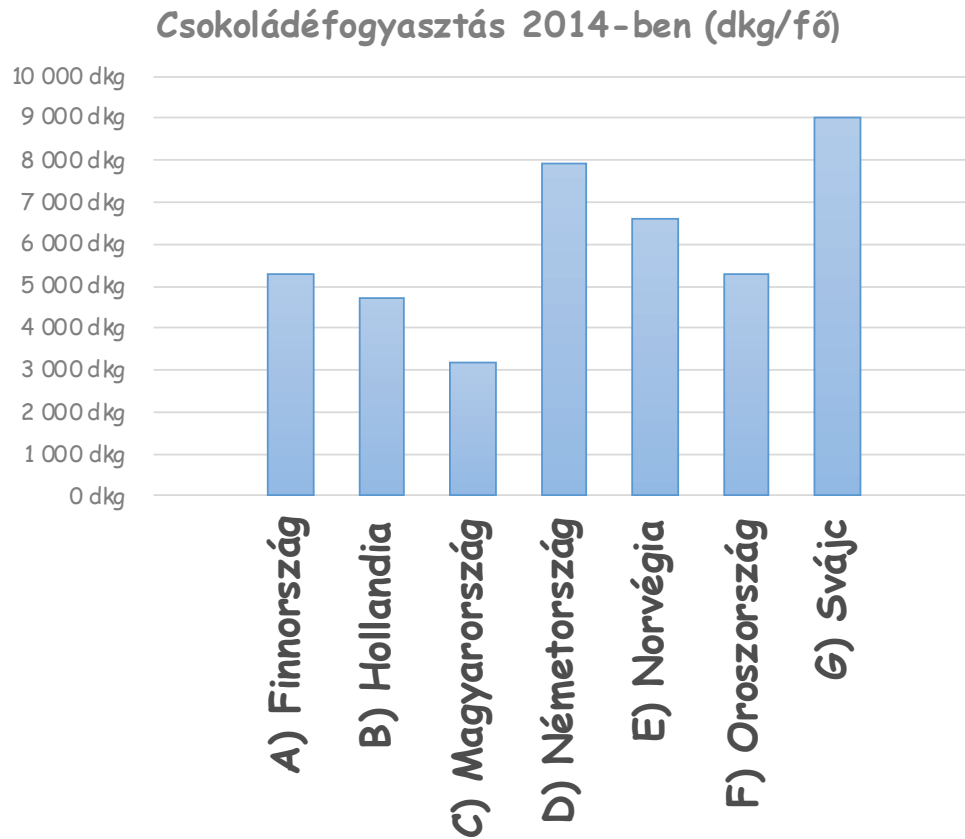
Forrás: <http://www.targetmap.com/viewer.aspx?reportId=38038>

Válaszolj a kérdésekre! Betűjeleket írd!

a)	Melyik országban fogyasztották a legtöbb csokoládét fejenként 2014-ben? _____	1 pont
b)	Melyikben a legkevesebbet? _____	1 pont
c)	Mely országokban fogyasztottak 2014-ben fejenként ugyanannyi csokoládét? _____	1 pont
Összesen:		3 pont

Értékelési útmutató:		
a)	G)	1 pont
b)	C)	1 pont
c)	A) és F)	1 pont
		Összesen: 3 pont

Figyeld meg a diagram adatait!



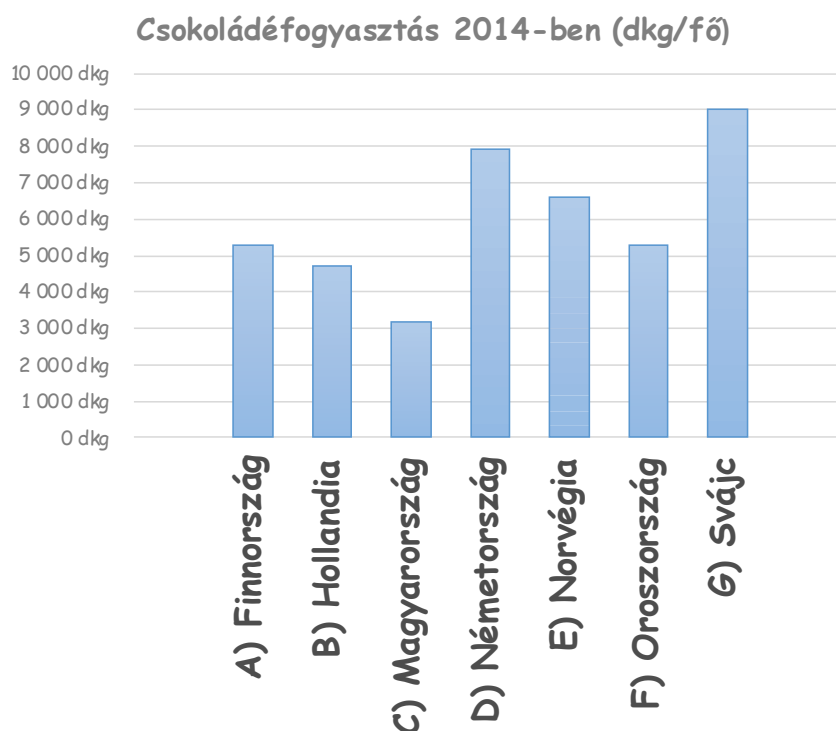
Forrás: <http://www.targetmap.com/viewer.aspx?reportId=38038>

a)	<p>Állítsd csökkenő sorrendbe az országokat a 2014-es fejenkénti csokoládéfogyasztásuk alapján!</p> <p>Az országok neve előtti betűjelet írd a vonalra!</p>		1 pont
<p>_____ > _____ > _____ > _____ ≥ _____ > _____ > _____</p>			
Összesen:			1 pont

Értékelési útmutató:

a)	$G) > D) > E) > A) \geq F) > B) > C)$ vagy: $G) > D) > E) > F) \geq A) > B) > C)$	1 pont
	Összesen:	1 pont

Figyeld meg a diagram adatait!



Forrás: <http://www.targetmap.com/viewer.aspx?reportId=38038>

Döntsd el a diagram alapján, hogy az állítások igazak vagy hamisak!

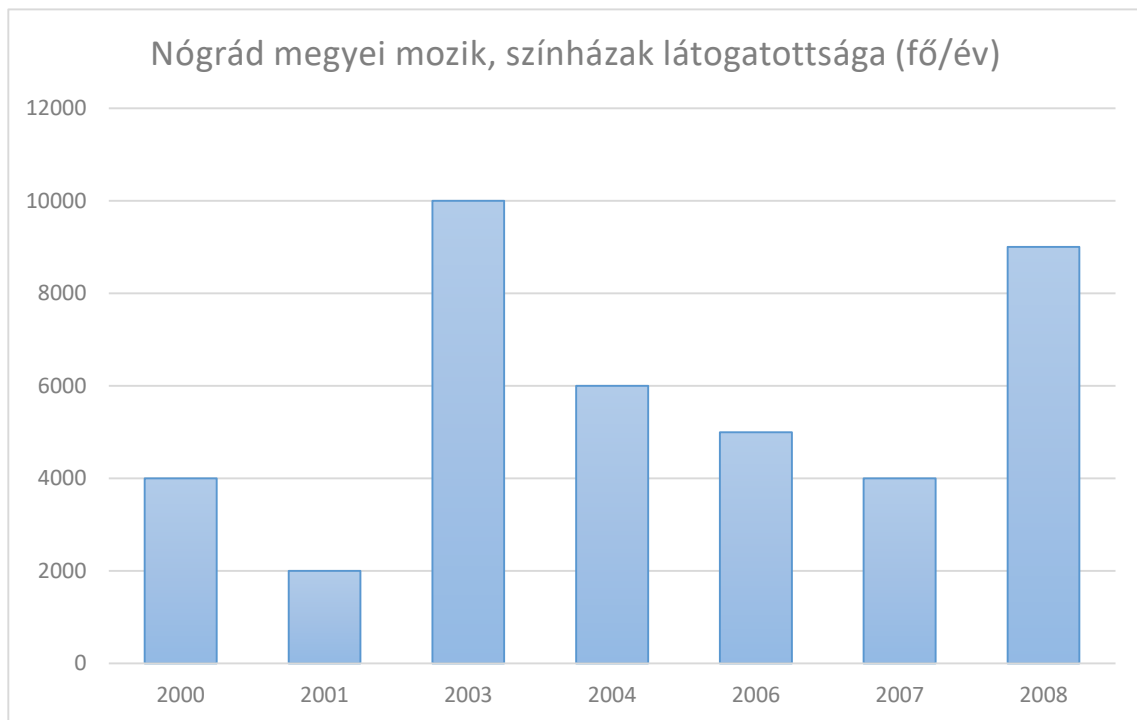
Aláhúzással válaszolj!

Az adott évben...

a)	... Oroszországban több csokoládé fogyott fejenként, mint Norvégiában. igaz - hamis	1 pont
b)	... Svájcban kb. 1000 dkg-mal több csoki fogyott fejenként, mint Németországban. igaz - hamis	1 pont
c)	...a diagramon szereplő országok között van három, amelyekben azonos mennyiségű csokoládét fogyasztottak. igaz - hamis	1 pont
Összesen:		3 pont

Értékelési útmutató:		
a)	hamis	1 pont
b)	igaz	1 pont
c)	hamis	1 pont
		Összesen: 3 pont

Figyeld meg a diagram adatait!



Forrás: http://www.ksh.hu/docs/hun/xstadat/xstadat_eves/i_zkk004.html

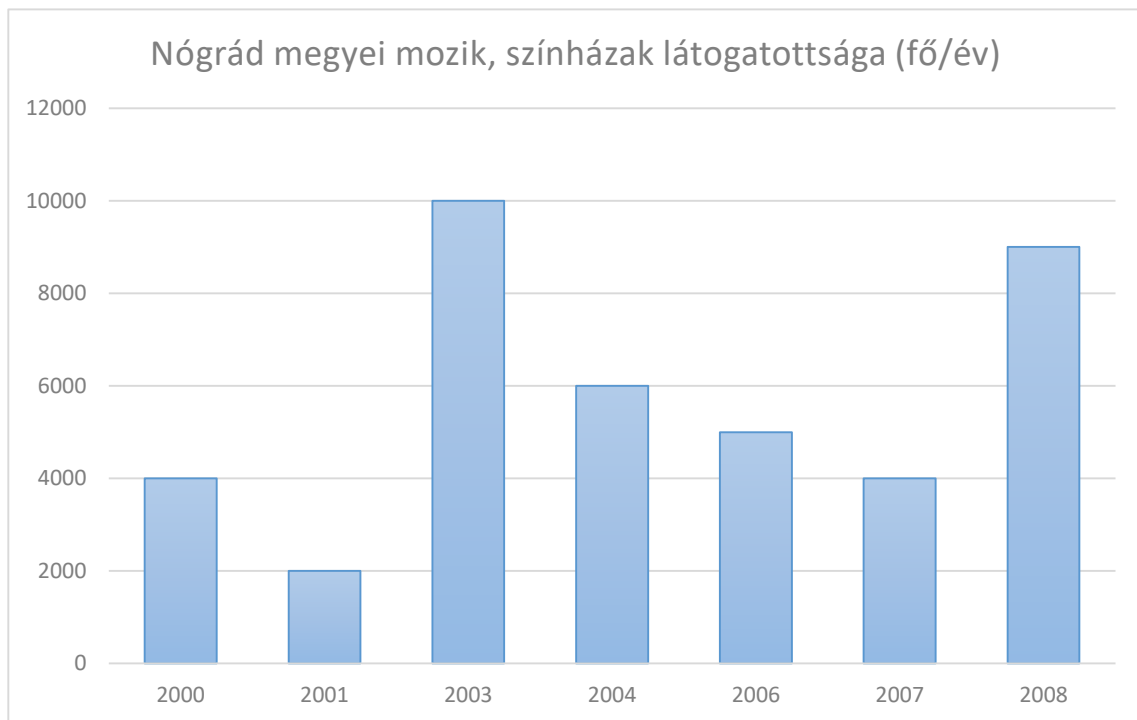
Folytasd a táblázat kitöltését! Kerek százasokkal dolgozz!

	év	fő		
	2000	4000		
a)	2001			1 pont
b)	2003			1 pont
c)	2004			1 pont
d)	2006			1 pont
e)	2007			1 pont
f)	2008			1 pont
Összesen:				6 pont

Értékelési útmutató:

a)	2000	1 pont
b)	10000	1 pont
c)	6000	1 pont
d)	5000	1 pont
e)	4000	1 pont
f)	9000	1 pont
	Összesen:	6 pont

Figyeld meg a diagram adatait!



Forrás: http://www.ksh.hu/docs/hun/xstadat/xstadat_eves/i_zkk004.html

Az adatok alapján egészítsd ki a mondatokat!

a)	A legtöbben a évben voltak moziban és színházban.		1 pont
b) évben többen voltak moziban és színházban mint a(z) évben.		1 pont
c)	Írj egy igaz állítást te is! _____ _____		1 pont
Összesen:			3 pont

Értékelési útmutató:		
a)	2003	1 pont
b)	minden jó megoldás elfogadható	1 pont
c)	minden jó megoldás elfogadható	1 pont
	Összesen:	3 pont