

|                            |     |                       |    |
|----------------------------|-----|-----------------------|----|
| <b>A feladat sorszáma:</b> | 4.6 | <b>Standardszint:</b> | 5. |
|----------------------------|-----|-----------------------|----|

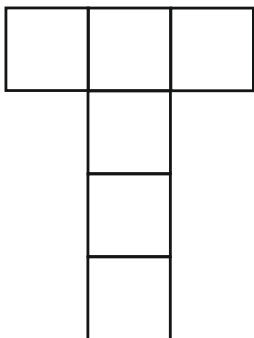
|  |   |                   |  |
|--|---|-------------------|--|
|  | <b>A standard(ok), amelye(ke)t a feladattal mérünk:</b> |                   |  |
|  | Geometria   | Térbeli alakzatok | <b>Képes egyszerű test (téglatest, kocka) térhálójának kiválasztására.</b> |

## Testhálók




- a) Melyik testhálóból lehet kockát alkotni?  
Karikázd be a megfelelő betűjeleket!

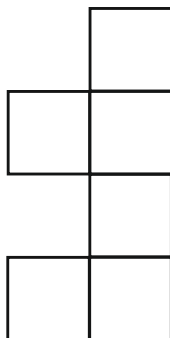
A)




B)



C)




D)



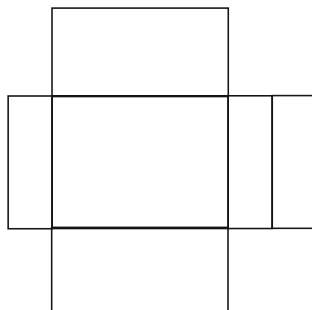
1 pont

b) Melyik testhálóból nem lehet téglatestet alkotni?  
Karikázd be a megfelelő betű jelét!

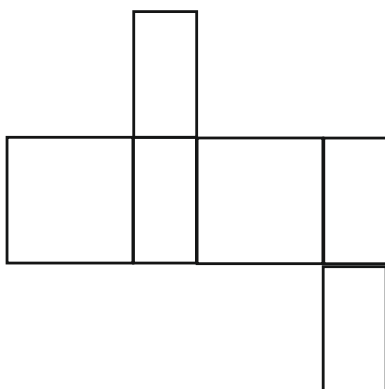
A)



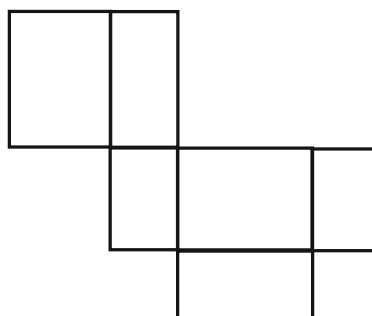
B)



C)



D)



1 pont

Összesen: 2 pont

| <b>Értékelési útmutató:</b> |                  |               |
|-----------------------------|------------------|---------------|
| a)                          | A), B), D)       | 1 pont        |
| b)                          | B)               | 1 pont        |
|                             | <b>Összesen:</b> | <b>2 pont</b> |