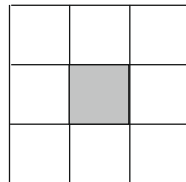
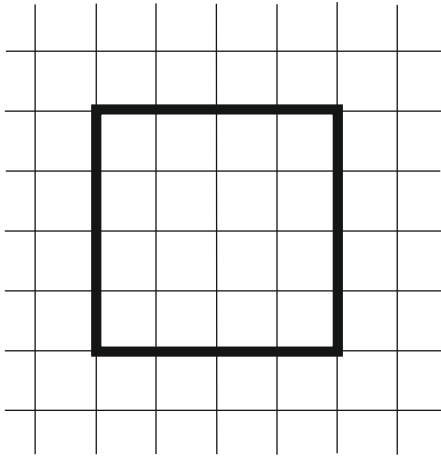


A feladat sorszáma:	4.5	Standardszint:	4.
----------------------------	-----	-----------------------	----

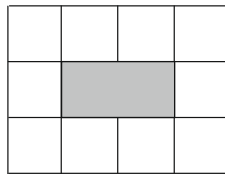
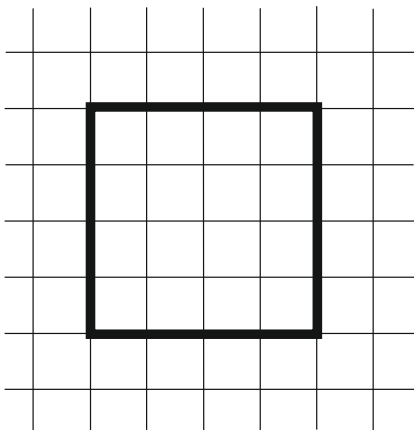
A standard(ok), amelye(ke)t a feladattal mérünk:		
Geometria	Kerület, terület	Képes megmérni területlefedéssel, különféle egységekkel a négyzet és téglalap területét.

Területmérés

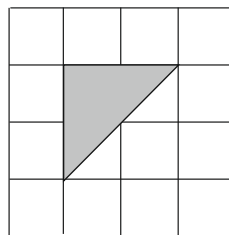
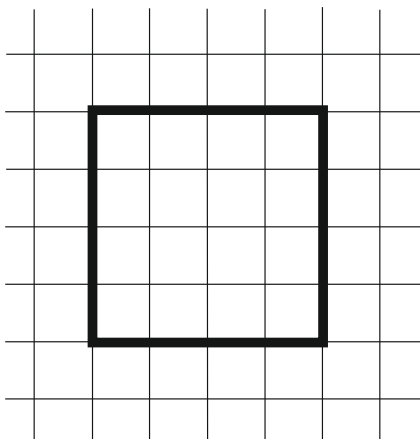
- a) Mérd meg a négyzet területét a különböző mértékegységekkel (négyzet, téglalap, háromszög)!



_____ egység szükséges.



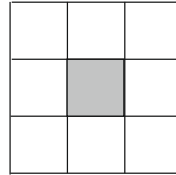
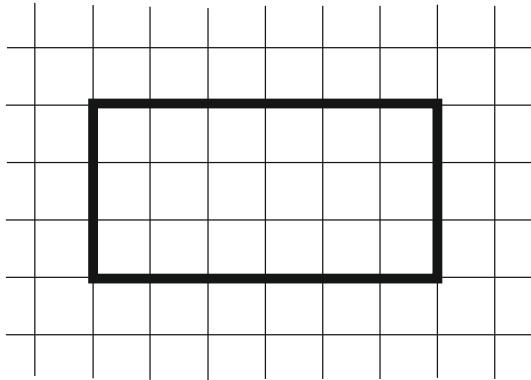
_____ egység szükséges.



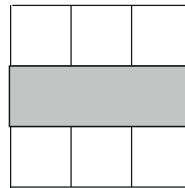
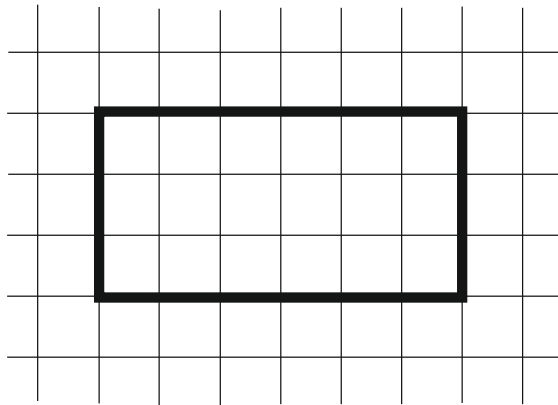
_____ egység szükséges

1 pont

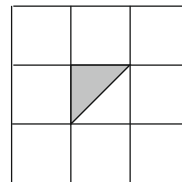
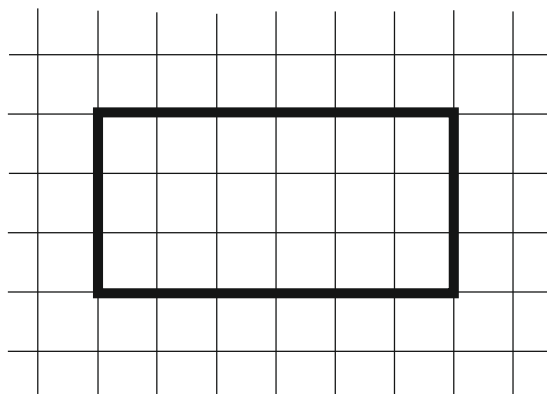
b) Mérd meg a téglalap területét a különböző mértékegységekkel!



_____ egység szükséges.



_____ egység szükséges.



_____ egység szükséges.

1 pont

Összesen:

2 pont

Értékelési útmutató:		
a)	16, 8, 8	1 pont
b)	18, 6, 36	1 pont
	Összesen:	2 pont