

A feladat sorszáma:	3.1.	Standardszint:	4.
----------------------------	------	-----------------------	----

A standard(ok), amelye(ke)t a feladattal mérünk:		
Összefüggések, függvények, sorozatok	Sorozatok	Képes pozitív egész számmal, egyenletesen növekvő és csökkenő sorozat szabályának felismerésére és folytatására.

Válaszd ki a sorozatba illő számot! Írd a betűjelét a téglalapba!

A)





B)

C)

D)

E)

F)

a)		1 pont
b)		1 pont
c)		1 pont
d)		1 pont
Összesen:		4 pont

Értékelési útmutató:

a)	C)	1 pont
b)	F)	1 pont
c)	D)	1 pont
d)	B)	1 pont
	Összesen:	4 pont