


A feladat sorszáma:	2.3.g	Standardszint:	5.
---------------------	-------	----------------	----

A standard(ok), amelye(ke)t a feladattal mérünk:		
Számtan, számelmélet, algebra	Számfogalom kialakítása	Képes egyszerűbb esetekben hajtogatással, nyírással, rajzzal, színezéssel létrehozni a matematikai nyelven leírt törteket.

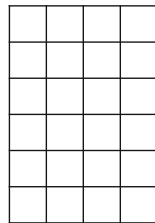

Színezz! Ki mennyit evett a csokoládéból?




$\frac{1}{3}$ részét



$\frac{3}{4}$ részét



$\frac{1}{2}$ részét



$\frac{1}{6}$ részét



a)			1 pont
b)			1 pont
c)			1 pont
d)			1 pont
Összesen:			4 pont

Értékelési útmutató:

a)	bármilyen alakzatban 8 színezett kis négyzet	1 pont
b)	bármilyen alakzatban 18 színezett kis négyzet	1 pont
c)	bármilyen alakzatban 12 színezett kis négyzet	1 pont
d)	bármilyen alakzatban 4 színezett kis négyzet	1 pont
	Összesen:	4 pont