

<b>A feladat sorszáma:</b>	2.3.f	<b>Standardszint:</b>	5.
----------------------------	-------	-----------------------	----

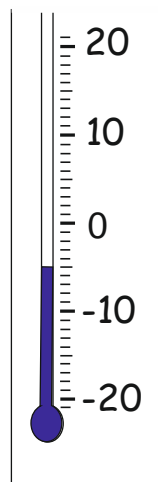
<b>A standard(ok), amelye(ke)t a feladattal mérünk:</b>		
Számtan, számelmélet, algebra	Műveletek	<b>Képes eszközzel egyszerű összeadások és kivonások elvégzésére negatív számok körében.</b>

Jelöld a hőmérőkön a változásokat!

Írd a hőmérő alá számmal a kiszámolt hőmérsékletet!

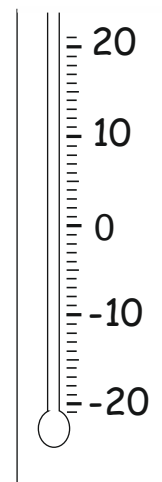


A sítábor első napján délben a hőmérséklet  $-5^{\circ}\text{C}$  volt.



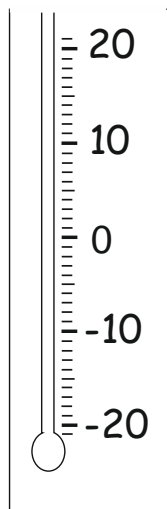
$-5^{\circ}\text{C}$

a) Éjszaka  $3^{\circ}\text{C}$ -ot hűlt a levegő hőmérséklete.



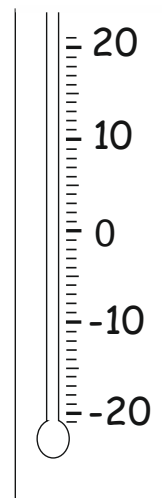
\_\_\_\_\_  $^{\circ}\text{C}$

b) Második nap délre melegedett  $6^{\circ}\text{C}$ -ot.



\_\_\_\_\_  $^{\circ}\text{C}$

c) Estére hűlt  $2^{\circ}\text{C}$ -ot.



\_\_\_\_\_  $^{\circ}\text{C}$

a)			1 pont
b)			1 pont
c)			1 pont
<b>Összesen:</b>			<b>3 pont</b>

<b>Értékelési útmutató:</b>		
a)	- 8 °C	1 pont
b)	- 2 °C	1 pont
c)	- 4 °C	1 pont
	<b>Összesen:</b>	<b>3 pont</b>