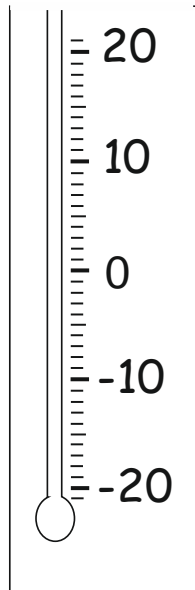


<b>A feladat sorszáma:</b>	2.3.f	<b>Standardszint:</b>	4.
----------------------------	-------	-----------------------	----

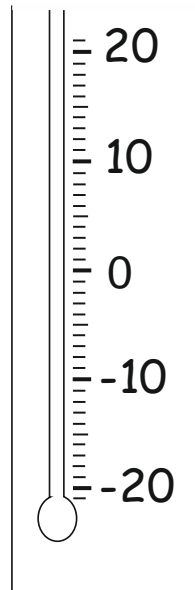
<b>A standard(ok), amelye(ke)t a feladattal mérünk:</b>		
Számтан, számelmélet, algebra	Műveletek	<b>Képes</b> a mindennapi életből vett példák segítségével <b>értelmezni</b> (pl. hőmérséklet, adósság) a <b>negatív számokat</b> .

Mennyit mutat a hőmérő?

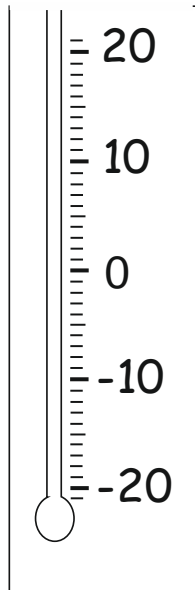
Színezd ki a megadott hőmérsékletek alapján!



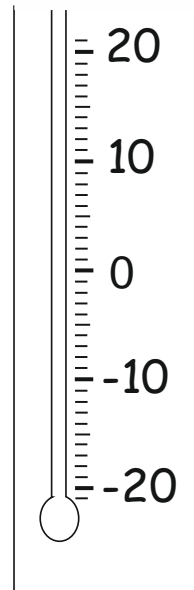
a) 0 °C



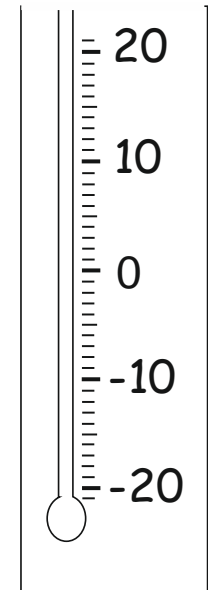
b) -10 °C



c) 3 °C



d) -3 °C



e) -14 °C

a)		1 pont
b)		1 pont
c)		1 pont
d)		1 pont
e)		1 pont
<b>Összesen:</b>		<b>5 pont</b>

**Értékelési útmutató:**

a)	értéknek megfelelő színezés (0 °C)	1 pont
b)	értéknek megfelelő színezés (-10 °C)	1 pont
c)	értéknek megfelelő színezés (3 °C)	1 pont
d)	értéknek megfelelő színezés (-3 °C)	1 pont
e)	értéknek megfelelő színezés (5 °C)	1 pont
	<b>Összesen:</b>	<b>5 pont</b>