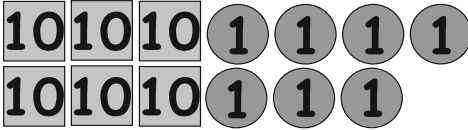
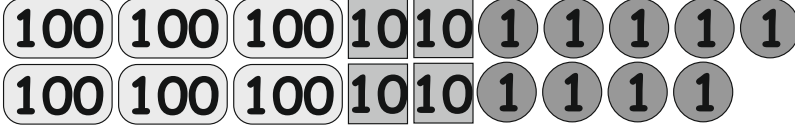
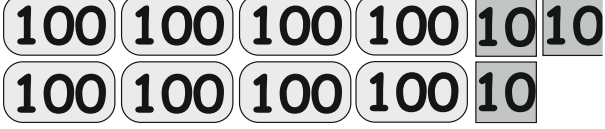

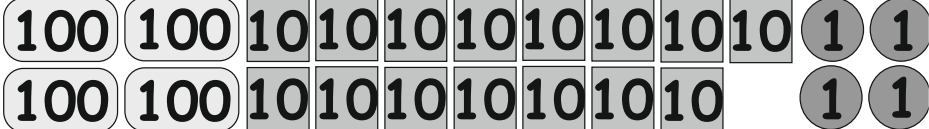


<b>A feladat sorszáma:</b>	2.1.c	<b>Standardszint:</b>	4.
----------------------------	-------	-----------------------	----

<b>A standard(ok), amelye(ke)t a feladattal mérünk:</b>		
Számтан, számelmélet, algebra	Számfogalom kialakítása	Képes helyi értékek szerinti bontásra és a bontások lejegyzésre 1000-es számkörben.

Írd a vonalra számjegyekkel, hogy mennyi pénzed van!

a)	 _____	1 pont
b)	 _____	1 pont
c)	 _____	1 pont
d)	 _____	1 pont
e)	 _____	1 pont
<b>Összesen:</b>		<b>5 pont</b>

<b>Értékelési útmutató:</b>		
a)	67	1 pont
b)	649	1 pont
c)	830	1 pont
d)	356	1 pont
e)	554	1 pont
		<b>Összesen: 5 pont</b>