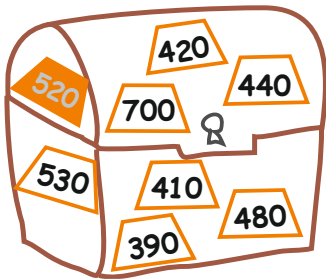


A feladat sorszáma:	2.1.b	Standardszint:	4.
----------------------------	-------	-----------------------	----

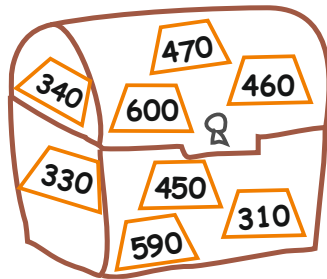
A standard(ok), amelye(ke)t a feladattal mérünk:		
Gondolkodási és megismerési módszerek	Számfogalom kialakítása	Használja a valamennyivel több, valamennyivel kevesebb fogalmát 1000-es számkörben .

Három kalóz kincseit láthatod.

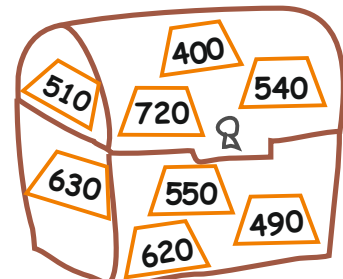
A)



B)



C)



a)	<p>A műveletek megmutatják, hogy melyik számjelzésű arany valódi a kalózok ládjában! Színezd ki!</p> <p>(pl.: $480 <_{40}$ - 520 színezve)</p> <p>$250 <_{150}$ $350 <_{120}$ $450 <_{60}$ $400 <_{300}$ $200 <_{250}$</p> <p>$200 <_{280}$ $420 <_{180}$ $220 <_{220}$ $580 <_{140}$</p>		1 pont
b)	<p>Folytasd a színezést!</p> <p>$400 >_{60}$ $720 >_{90}$ $440 >_{30}$ $500 >_{40}$ $600 >_{70}$</p> <p>$600 >_{60}$ $650 >_{60}$ $1000 >_{670}$</p>		1 pont
c)	<p>Rendezd növekvő sorrendbe a kalózokat vagyonuk alapján!</p> <p>A ládákban lévő kiszínezett aranyak darabszámát figyeld! A betűjelüket használd!</p> <p>_____ < _____ < _____</p>		1 pont
Összesen:			3 pont

Értékelési útmutató:

a)	A feladatok eredménye sorrendben: 400, 470, 510, 700, 450, 480, 600, 440, 720 Az A) kalóz valódi aranyai: 700, 480, 440 A B) kalóz valódi aranyai: 470, 450, 600, A C) kalóz valódi aranyai: 400, 510, 720	1 pont
b)	520, 340, 630, 410, 460, 530, 540, 590, 330 Az A) kalóz valódi aranyai: 520, 410, 530, A B) kalóz valódi aranyai: 340, 460, 590, 330, A C) kalóz valódi aranyai: 630, 540,	1 pont
c)	A helyes sorrend: C), A), B)	1 pont
	Összesen:	3 pont