


A feladat sorszáma:	2.1.a	Standardszint:	4.
----------------------------	-------	-----------------------	----

A standard(ok), amelye(ke)t a feladattal mérünk:		
Számtan, számelmélet, algebra	Számfogalom kialakítása	Képes a római számok leolvasására 100-as számkörben.

Római útjelző köveket látsz!


A római számokat írd le a képek alá arab számmal!



6


a)





1 pont

b)





1 pont

Összesen: 2 pont

Értékelési útmutató:		
a)	21,70	1 pont
b)	14,40	1 pont
	Összesen:	2 pont