



<b>A feladat sorszáma:</b>	1.2	<b>Standardszint:</b>	4.
----------------------------	-----	-----------------------	----

<b>A standard, amelyet a feladattal mérünk:</b>		
Gondolkodási és megismerési módszerek	Állítások, logika	<b>Kevés segítséggel képes helyes döntéseket hozni az „és”, „vagy” szavak jelentésének figyelembe vételével.</b>

Az öt virágszál közül melyek azok




**A**




**B**



**C**



**D**



**E**

- a) amelyen páros a szirmok száma és páros a levelek száma?
- b) amelyen páros a szirmok száma vagy páros a levelek száma?
- c) amelyen páratlan a szirmok száma és páros a levelek száma?
- d) amelyen 6-nál több a szirmok száma vagy 2 levele van?

**Összesen:**

**8 pont**

<b>Javítási útmutató:</b>	
2. feladat:	
Válasz:	
a) A	1 pont
b) A, B, D	3 pont
c) D	1 pont
d) A, D, E	3 pont
<b>Összesen:</b>	<b>8 pont</b>